

問1 次の野菜の生産量上位の都道府県をまとめた①～⑨の表が、どの生産物のものかをあとの選択肢ア～ケから選び、記号で答えなさい。

①

	都道府県	全国に占める割合
1	群馬	18.8%
2	愛知	16.7%
3	千葉	8.5%
4	茨城	7.5%
5	鹿児島	5.2%

②

	都道府県	全国に占める割合
1	宮崎	11.3%
2	群馬	10.0%
3	埼玉	8.3%
4	福島	7.1%
5	千葉	6.4%

③

	都道府県	全国に占める割合
1	高知	13.1%
2	熊本	10.6%
3	群馬	8.6%
4	福岡	7.0%
5	茨城	5.5%

④

	都道府県	全国に占める割合
1	千葉	13.8%
2	埼玉	12.3%
3	茨城	11.0%
4	群馬	4.3%
5	北海道	4.3%

⑤

	都道府県	全国に占める割合
1	茨城	26.5%
2	長野	25.4%
3	群馬	3.7%
4	北海道	2.9%
5	栃木	2.7%

⑥

	都道府県	全国に占める割合
1	茨城	23.8%
2	宮崎	18.9%
3	高知	9.6%
4	鹿児島	9.0%
5	岩手	5.4%

⑦

	都道府県	全国に占める割合
1	千葉	11.2%
2	埼玉	10.6%
3	群馬	9.4%
4	茨城	7.8%
5	宮崎	6.9%

⑧

	都道府県	全国に占める割合
1	長野	35.7%
2	茨城	15.3%
3	群馬	7.9%
4	長崎	5.8%
5	兵庫	4.9%

⑨

	都道府県	全国に占める割合
1	茨城	17.3%
2	埼玉	12.7%
3	福岡	10.1%
4	東京	6.8%
5	群馬	6.3%

ア キャベツ イ レタス ウ はくさい エ ほうれんそう
 オ こまつな カ ねぎ キ きゅうり ク ピーマン ケ なす

①	②	③	④	⑤
⑥	⑦	⑧	⑨	

問2 次の野菜・穀物の生産量上位の都道府県をまとめた①～⑨の表が、どの生産物のものかをあとの選択肢ア～ケから選び、記号で答えなさい。

①

	都道府県	全国に占める割合
1	北海道	65.2%
2	福岡	6.6%
3	佐賀	4.5%
4	愛知	3.1%
5	群馬	2.3%

②

	都道府県	全国に占める割合
1	北海道	11.8%
2	千葉	11.3%
3	青森	9.2%
4	鹿児島	7.2%
5	神奈川	6.0%

③

	都道府県	全国に占める割合
1	北海道	62.1%
2	佐賀	10.2%
3	兵庫	8.3%
4	長崎	2.5%
5	愛知	2.4%

④

	都道府県	全国に占める割合
1	北海道	28.6%
2	千葉	19.0%
3	徳島	8.5%
4	青森	6.5%
5	長崎	5.7%

⑤

	都道府県	全国に占める割合
1	北海道	77.1%
2	鹿児島	4.3%
3	長崎	4.1%
4	茨城	2.0%
5	千葉	1.4%

⑥

	都道府県	全国に占める割合
1	北海道	38.9%
2	宮城	7.6%
3	佐賀	6.4%
4	福岡	6.1%
5	秋田	4.9%

⑦

	都道府県	全国に占める割合
1	鹿児島	34.9%
2	茨城	21.8%
3	千葉	12.5%
4	宮崎	11.3%
5	徳島	3.5%

⑧

	都道府県	全国に占める割合
1	静岡	39.2%
2	鹿児島	35.9%
3	三重	7.9%
4	宮崎	4.7%
5	京都	3.6%

⑨

	都道府県	全国に占める割合
1	新潟	8.0%
2	北海道	7.6%
3	秋田	6.2%
4	宮城	4.9%
5	山形	4.9%

ア 米 イ 小麦 ウ にんじん エ さつまいも オ だいこん
 カ 茶 キ 大豆 ク たまねぎ ケ じゃがいも

①	②	③	④	⑤
⑥	⑦	⑧	⑨	

問3 次の果物・フルーツ類の生産量上位の都道府県をまとめた①～⑥の表が、どの生産物のものをあとの選択肢ア～カから選び、記号で答えなさい

①

	都道府県	全国に占める割合
1	山梨	23.9%
2	長野	17.8%
3	山形	9.2%
4	岡山	8.8%
5	福岡	4.2%

②

	都道府県	全国に占める割合
1	青森	58.9%
2	長野	18.8%
3	岩手	6.3%
4	山形	5.5%
5	福島	3.4%

③

	都道府県	全国に占める割合
1	和歌山	20.1%
2	静岡	14.8%
3	愛媛	14.7%
4	熊本	11.7%
5	長崎	6.4%

④

	都道府県	全国に占める割合
1	山梨	34.8%
2	福島	21.4%
3	長野	11.7%
4	山形	7.1%
5	和歌山	6.6%

⑤

	都道府県	全国に占める割合
1	千葉	13.1%
2	茨城	10.3%
3	栃木	8.8%
4	福島	7.4%
5	鳥取	6.9%

⑥

	都道府県	全国に占める割合
1	栃木	15.4%
2	福岡	10.1%
3	熊本	6.9%
4	静岡	6.7%
5	長崎	6.3%

ア みかん イ りんご ウ ぶどう エ もも オ なし カ いちご

①	②	③	④	⑤
⑥				

問4 次の家畜の飼育頭数上位の都道府県をまとめた①～⑤の表が、どの家畜のものをあとの選択肢ア～オから選び、記号で答えなさい

①

	都道府県	全国に占める割合
1	北海道	60.1%
2	栃木	3.9%
3	熊本	3.3%
4	岩手	3.2%
5	群馬	2.6%

②

	都道府県	全国に占める割合
1	北海道	20.5%
2	鹿児島	13.5%
3	宮崎	10.0%
4	熊本	5.0%
5	岩手	3.5%

③

	都道府県	全国に占める割合
1	鹿児島	12.7%
2	宮崎	8.9%
3	北海道	7.9%
4	群馬	7.3%
5	千葉	6.5%

④

	都道府県	全国に占める割合
1	茨城	8.7%
2	千葉	7.0%
3	鹿児島	6.0%
4	岡山	5.3%
5	愛知	5.0%

⑤

	都道府県	全国に占める割合
1	宮崎	20.4%
2	鹿児島	20.2%
3	岩手	15.7%
4	青森	5.0%
5	北海道	3.6%

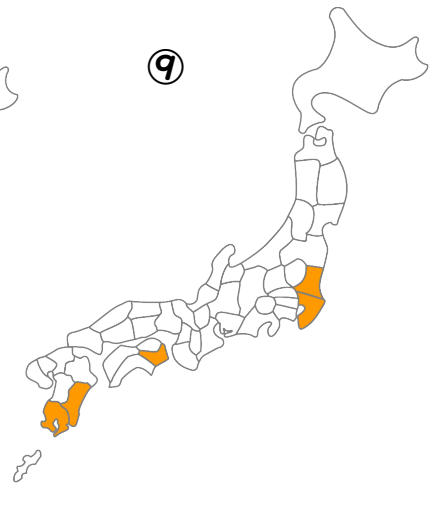
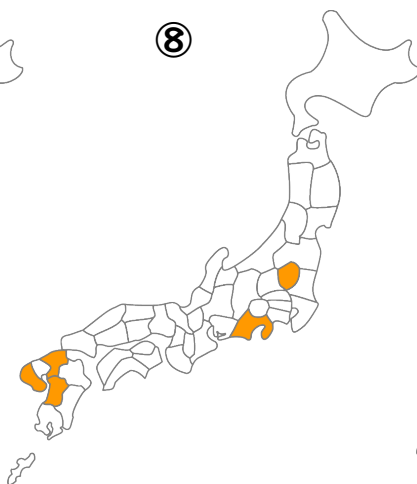
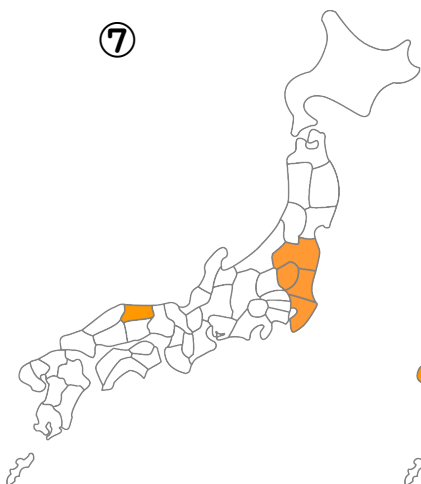
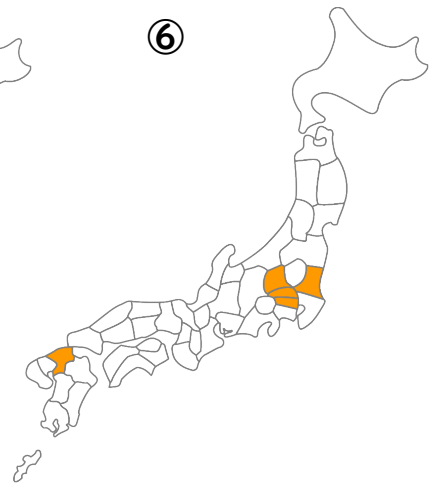
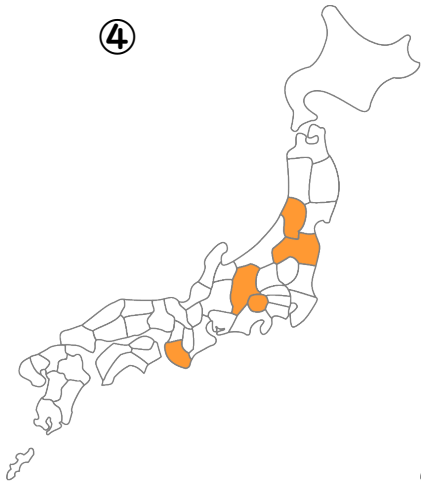
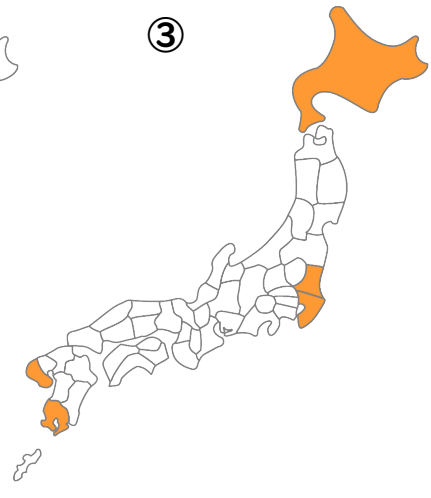
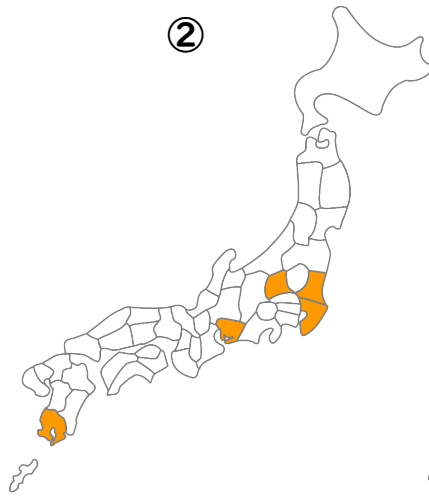
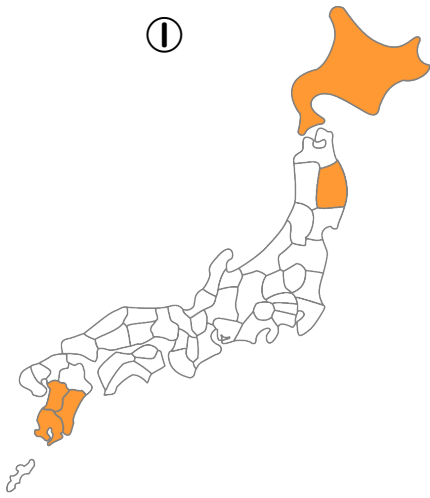
ア 肉牛 イ 乳牛 ウ ぶた エ 食用鶏（ブロイラー）
オ 採卵鶏

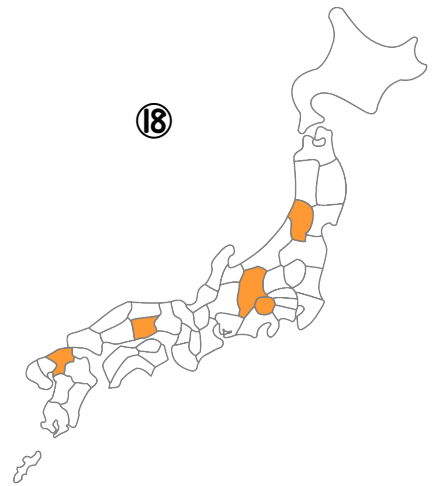
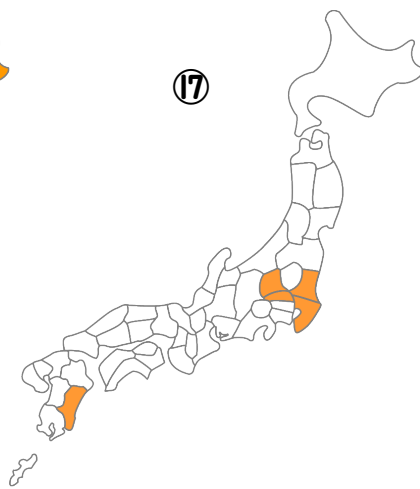
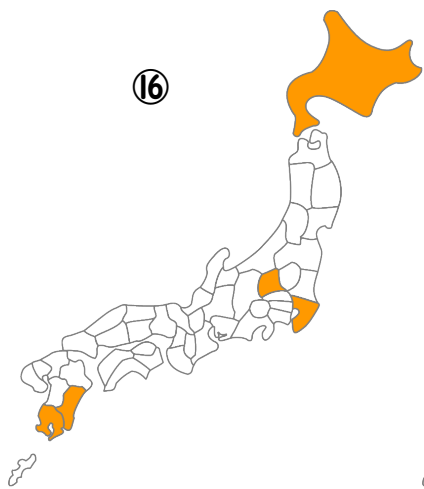
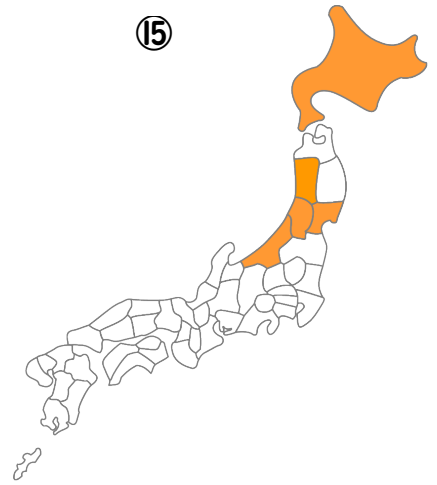
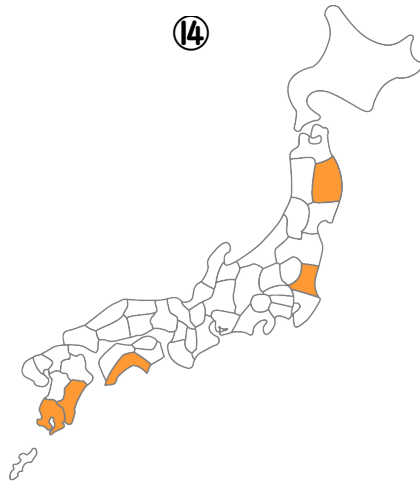
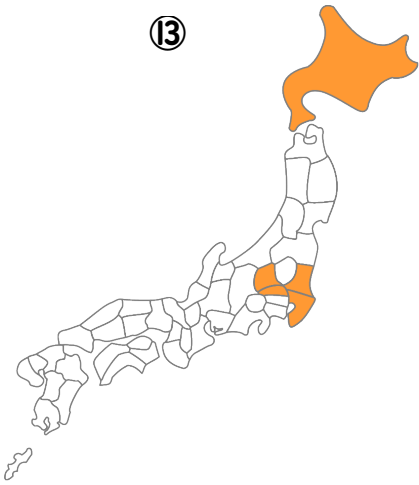
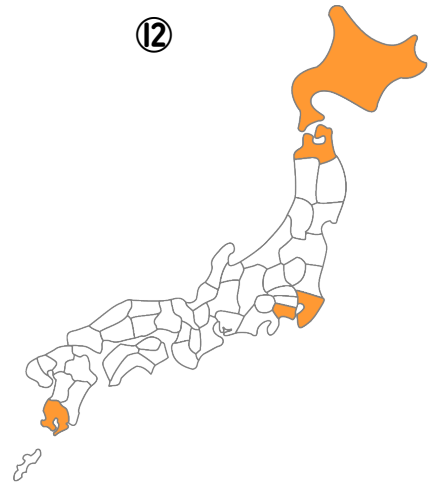
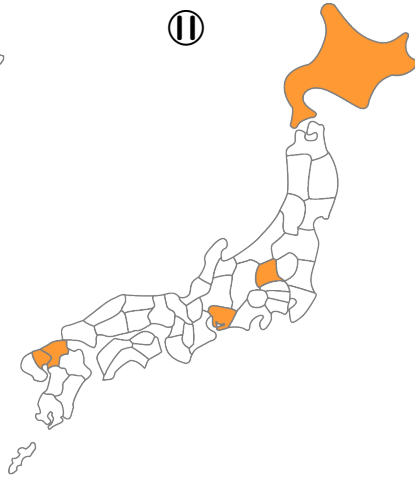
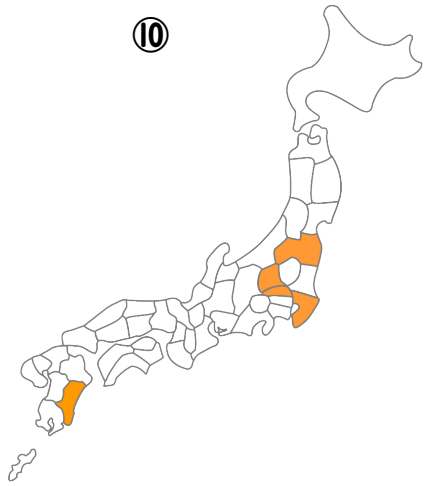
①	②	③	④	⑤
---	---	---	---	---

問5 次の農畜産物で、収穫量・飼育頭数が全国一の都道府県を答えなさい。

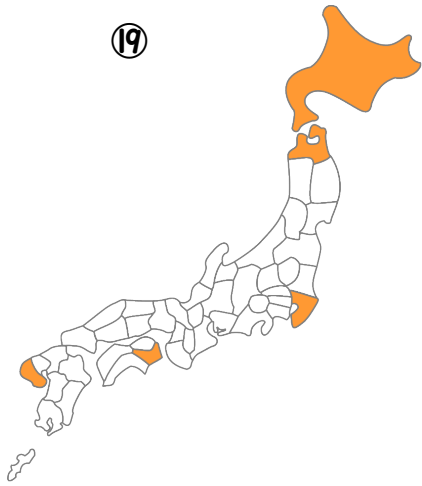
(1)	かぶ	【 】	(2)	かぼちゃ	【 】
(3)	キャベツ	【 】	(4)	きゅうり	【 】
(5)	ごぼう	【 】	(6)	こまつな	【 】
(7)	さつまいも	【 】	(8)	じゃがいも	【 】
(9)	だいこん	【 】	(10)	たまねぎ	【 】
(11)	トマト	【 】	(12)	なす	【 】
(13)	にんじん	【 】	(14)	ねぎ	【 】
(15)	はくさい	【 】	(16)	ピーマン	【 】
(17)	ほうれんそう	【 】	(18)	レタス	【 】
(19)	いちご	【 】	(20)	うめ	【 】
(21)	おうとう	【 】	(22)	かき	【 】
(23)	くり	【 】	(24)	すいか	【 】
(25)	なし	【 】	(26)	パイナップル	【 】
(27)	びわ	【 】	(28)	ぶどう	【 】
(29)	もも	【 】	(30)	洋なし	【 】
(31)	小豆	【 】	(32)	菊	【 】
(33)	小麦	【 】	(34)	米	【 】
(35)	いぐさ	【 】	(36)	大豆	【 】
(37)	茶	【 】	(38)	さとうきび	【 】
(39)	てんさい	【 】	(40)	らっかせい	【 】
(41)	肉牛	【 】	(42)	乳牛	【 】
(43)	ぶた	【 】	(44)	ブロイラー	【 】
(45)	採卵鶏	【 】			

問6 ある農畜産物の収穫量・飼育頭数上位5都道府県を示した①～⑨の地図が、どの農畜産物のものかをあとの選択肢ア～へから選び、記号で答えなさい。

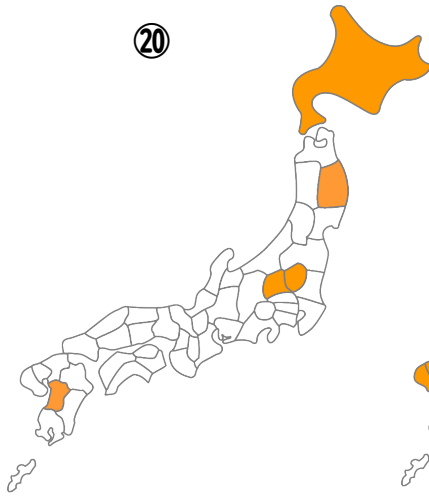




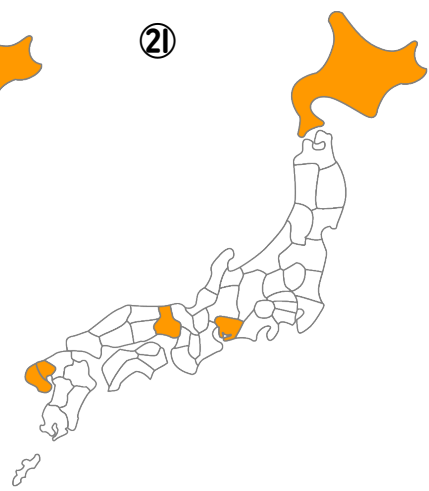
19



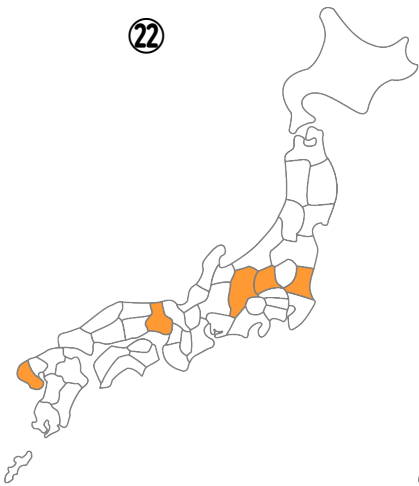
20



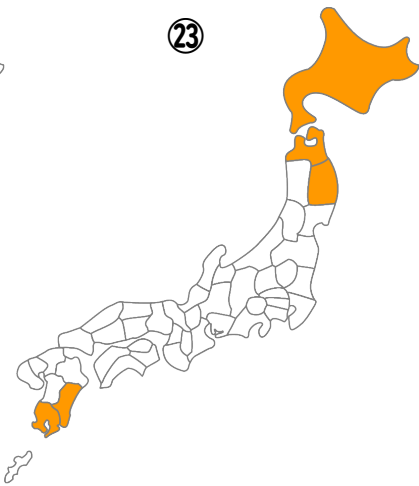
21



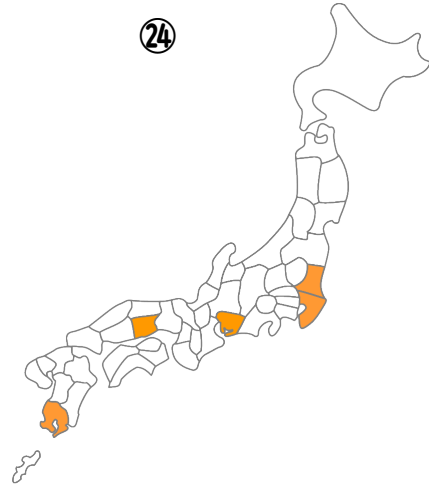
22



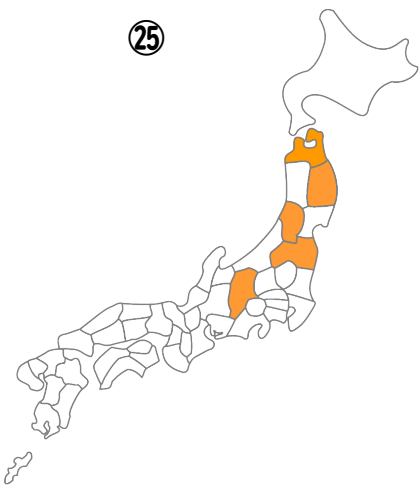
23



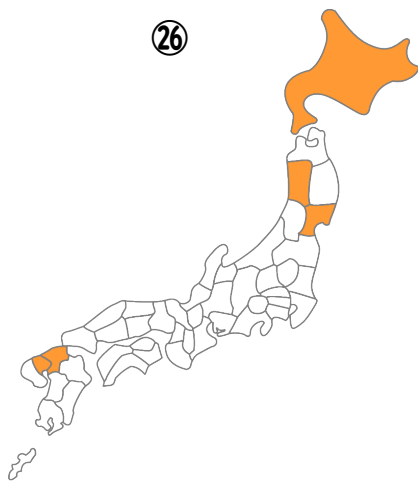
24



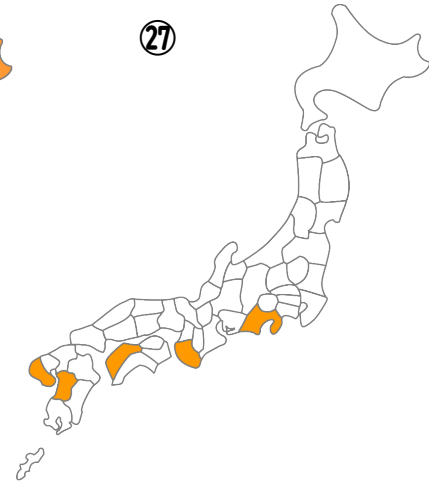
25

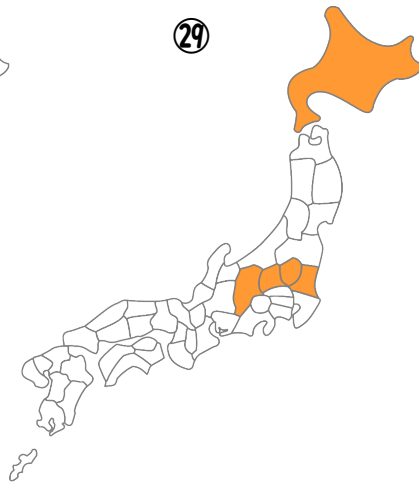
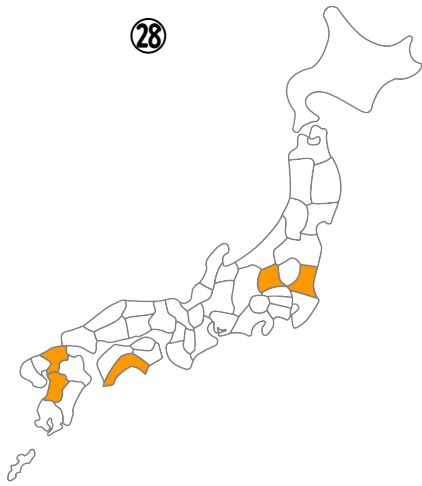


26



27





アいちご
カじゃがいも
サにんじん
タぶどう
ナりんご
ハ大豆

イキャベツ
キだいこん
シねぎ
チブロイラー
ニレタス
ヒ茶

ウきゅうり
クたまねぎ
スはくさい
ツほうれんそう
ヌ米
フ肉牛

エコまつな
ケなし
セピーマン
テみかん
ネ採卵鶏
ヘ乳牛

オさつまいも
コなす
ソぶた
トもも
ノ小麦

①	②	③	④	⑤
⑥	⑦	⑧	⑨	⑩
⑪	⑫	⑬	⑭	⑮
⑯	⑰	⑱	⑲	⑳
㉑	㉒	㉓	㉔	㉕
㉖	㉗	㉘	㉙	

問I

1位の県名で確実にわかるものは①の群馬＝キャベツ（2位の愛知もヒントになります）、②の宮崎＝きゅうり（宮崎はピーマンの促成栽培が有名ですが、ピーマンは1位ではありません）③高知＝なす、⑧長野＝レタスです。

ちなみに、群馬県はこんにゃくいも、高知県はみょうがの生産も日本一ですがまず選択肢には出てこないでしょう。

あとは千葉が1位の④と⑦、茨城が1位の⑤と⑥と⑨で、残る候補がはくさい、ほうれんそう、こまつな、ねぎ、ピーマンです。

2位以降を見ると、⑥は宮崎高知の促成栽培コンビが入っていますから、ピーマンとわかります。

⑨では4位の東京が注目です。東京が生産上位に入る野菜といえば「こまつな」です。（江戸川区小松川が原産地です）

④と⑤、④と⑦はかなり似ているランキングですが、④と⑦で埼玉が2位になっています。埼玉が生産上位に入るのはねぎとほうれんそうです。

この2つは1～4位までは同じ県が並ぶので、5位の北海道と宮崎で見分けるしかありませんが、さすがに5位まで覚えておくのは脳のリソースの無駄遣いです。イメージとして、ねぎのほうがか寒い地域で採れそう→④がねぎで、ほうれんそうのほうがか暖かい地域で採れそう→⑦がほうれんそう、というくらいで見分けてください。

すると残る⑤ははくさい、となります。長野が2位なので早めに見分けてもよいでしょう。

① ア	② キ	③ ケ	④ カ	⑤ ウ
⑥ ク	⑦ エ	⑧ イ	⑨ オ	

問2

①～⑥は北海道が1位なので後回しです。

まず⑦は鹿児島が1位なのでさつまいも。「薩摩（さつま）」＝鹿児島です。

⑧は静岡が1位なので茶。京都が5位に入るのも特徴です。

⑨は新潟が1位なので米。他に新潟が1位になるものにはまいたけ・なめこがありますが、まず聞かれません。

残りの①～⑥ですが、②と④は千葉が2位に入っています。ということは近郊農業ですから小麦・大豆は省けそうです。

小麦の生産が多いのは米麦二毛作の伝統がある福岡・佐賀です。これが①と⑥の両方に入っていますが、⑥は2位が宮城県です。大豆の生産がさかんなのは宮城県（未成熟な大豆＝枝豆によるずんだが有名です）なので、①が小麦、⑥が大豆と考えられます。

のこりはじゃがいも・たまねぎ・にんじん・だいこんですが、じゃがいもとたまねぎは北海道のシェアが大きい③⑤と考えられます。③の3位に兵庫が入っていますから（淡路島でたまねぎの生産がさかん）、③がたまねぎです。よって⑤がじゃがいもです。

残る②と④が、にんじん・だいこんです。ここで注目②の5位に入る神奈川です。神奈川には「三浦ダイコン」という特産品があり、だいこんの生産がさかんです。したがって、②がだいこん、④がにんじんです。

①	イ	②	オ	③	ク	④	ウ	⑤	ケ
⑥	キ	⑦	エ	⑧	ケ	⑨	ア		

問3

①と④は山梨が1位なので後回しにします。

②は青森が1位ですからりんごです

ちなみに、青森県はごぼうとにんにくも日本一です。

③は和歌山1位ですからみかんです。愛媛が3位になっているのが意外ですが、近年の愛媛は温州ミカン以外のかんきつ類に力を入れているので、みかんの収穫量だと静岡に負けます。

ちなみに、和歌山は梅と柿の収穫量も1位のフルーツ王国です。柿は奈良県が2位なのでそこで区別をつけてください。

⑤は一見すると近郊農業の野菜にも見えますが、なし（日本梨）です。「ふなっしー」がPRしているとおり、千葉県が全国一の収穫量です。

かつては鳥取県（二十世紀梨という、青い梨が有名です）が全国一でしたが、現在は5位に落ちています。

⑥は栃木が1位ですから、いちごです。「とちおとめ」というブランド苺が有名です。

残る①と④は山梨が1位のぶどう、ももになります。①④ともに長野山形もランクインしていますので、ここでは区別が付きません。

④の2位には福島が入っていますので、こちらが桃です。

また、①の4位に入る岡山は、ぶどうの中でも「マスカット」だけなら日本一なのでこちらがぶどうであることも読み取れます。

① ウ	② イ	③ ア	④ エ	⑤ オ
⑥ カ				

問4

- ①と②は北海道が1位ですが、①は北海道のシェアが大きく、2位が栃木なので乳牛とわかります。
- ②のほうは北海道に次いで鹿児島・宮崎なので肉牛です。
- ③は鹿児島が1位なのでぶたです。
- ④は消去法で採卵鶏になります。
- ⑤は宮崎が1位なので食用鶏（ブロイラー）だとわかります。
- 鶏は伝染病などで飼育頭数が大きく変動することもあるので、あまり出題されないでしょう。

①	イ	②	ア	③	ウ	④	エ	⑤	オ
---	---	---	---	---	---	---	---	---	---

問5

以下の通りです。

(1)	かぶ	【千葉県】	(2)	かぼちゃ	【北海道】
(3)	キャベツ	【群馬県】	(4)	きゅうり	【宮崎県】
(5)	ごぼう	【青森県】	(6)	こまつな	【茨城県】
(7)	さつまいも	【鹿児島県】	(8)	じゃがいも	【北海道】
(9)	だいこん	【北海道】	(10)	たまねぎ	【北海道】
(11)	トマト	【熊本県】	(12)	なす	【高知県】
(13)	にんじん	【北海道】	(14)	ねぎ	【千葉県】
(15)	はくさい	【茨城県】	(16)	ピーマン	【茨城県】
(17)	ほうれんそう	【千葉県】	(18)	レタス	【長野県】
(19)	いちご	【栃木県】	(20)	うめ	【和歌山県】
(21)	おうとう	【山形県】	(22)	かき	【和歌山県】
(23)	くり	【茨城県】	(24)	すいか	【熊本県】
(25)	なし	【千葉県】	(26)	パイナップル	【沖縄県】
(27)	びわ	【長崎県】	(28)	ぶどう	【山梨県】
(29)	もも	【山形県】	(30)	洋なし	【山形県】
(31)	小豆	【北海道】	(32)	菊	【愛知県】
(33)	小麦	【北海道】	(34)	米	【新潟県】
(35)	いぐさ	【熊本県】	(36)	大豆	【北海道】
(37)	茶	【静岡県】	(38)	さとうきび	【沖縄県】
(39)	てんさい	【北海道】	(40)	らっかせい	【千葉県】
(41)	肉牛	【北海道】	(42)	乳牛	【北海道】
(43)	ぶた	【鹿児島県】	(44)	ブロイラー	【宮崎県】
(45)	採卵鶏	【茨城県】			

問6 順位付けされていないとさすがに無理ゲーですが、たまにこの形式でも出題されます消しやすいものから消していきましょう。

- ①は北海道・岩手に南九州3県ですから肉牛です。
- ②は愛知と群馬がいるのでキャベツです。
- ③は北海道・鹿児島に長崎が入るのでじゃがいもです。
- ④はフルーツ王国山梨・長野・和歌山・山形に加え福島ですから、桃です。
- ⑤は静岡と京都があるので茶です。
- ⑥は近郊農業に東京が入っているのでこまつなです。
- ⑦は鳥取が入っているのでなしです。鳥取が出てくるのは梨とらっきょうだけです。
- ⑧は栃木・福岡・静岡の組み合わせなのでいちごです。
- ⑨は徳島が入っていて北海道が入っていません。徳島ではさつまいも（鳴門金時）が名産ですから、さつまいもです。ただし、徳島はにんじんも上位なので要注意です。
- ⑩は難問。埼玉と群馬が入るのでねぎ・ほうれんそう・きゅうりで、北海道がないのでねぎは除外です。ほうれんそうときゅうりは順位がつかないと見分けが厳しいですが、福島が入っているのだからこちらがきゅうりです。
- ⑪は北海道に福岡佐賀で、宮城がないので小麦です。
- ⑫は神奈川が入っているのだからだいこんです。
- ⑬は再び埼玉で北海道が入りますから、⑩で除外したねぎです。
- ⑭は宮崎高知で促成栽培コンビに茨城が入るのでピーマンです。
- ⑮は新潟が入るので米です。新潟は米の他にはまいたけ、なめこなどです。
- ⑯は難問ですが、宮崎鹿児島北海道なので畜産、ぶたです。
- ⑰は⑩、⑭に続いて埼玉ですから残り1つのほうれんそうです。
- ⑱はフルーツ王国山梨・長野・山形に岡山ですから、ぶどうです。
- ⑲は徳島と北海道なのでにんじんです。
- ⑳は北海道・岩手に栃木熊本なので乳牛です。
- ㉑は北海道に加えて佐賀と兵庫があるのでたまねぎです。
- ㉒も兵庫がありますが北海道が入りません。長野群馬があるのでレタスです。
- ㉓は難問。宮崎・鹿児島・北海道・岩手で畜産で、青森が入るのはブロイラーです。
- ㉔も難問です。後を埋めてから消去法で採卵鶏を選びます。
- ㉕は青森と長野・山形なのでりんごです。
- ㉖は北海道に福岡佐賀ですが、宮城が入っているのだから大豆です。
- ㉗は愛媛と和歌山がありますからみかんです。
- ㉘は高知で残る候補はなすです。
- ㉙は長野・群馬の高原野菜コンビに北海道が入ってはくさいです。

①	フ	②	イ	③	カ	④	ト	⑤	ヒ
⑥	エ	⑦	ケ	⑧	ア	⑨	オ	⑩	ウ
⑪	ノ	⑫	キ	⑬	シ	⑭	セ	⑮	ヌ
⑯	ソ	⑰	ツ	⑱	タ	⑲	サ	⑳	ヘ
㉑	ク	㉒	ニ	㉓	チ	㉔	ネ	㉕	ナ
㉖	ハ	㉗	テ	㉘	コ	㉙	ス		